



Nombre: _____

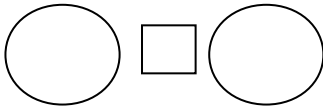
Fecha: _____

- En un huerto hay 66 árboles entre naranjos y limoneros. Si 35 árboles son naranjos, ¿cuántos limoneros hay?

PROBLEMAS

DATOS

OPERACIÓN



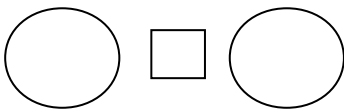


SOLUCIÓN: _____.

- En mi colegio hay 98 alumnos entre niños y niñas. Si 48 de ellos son niñas, ¿Cuántos niños hay en el colegio?

DATOS

OPERACIÓN



SOLUCIÓN: _____.



actiludis.com





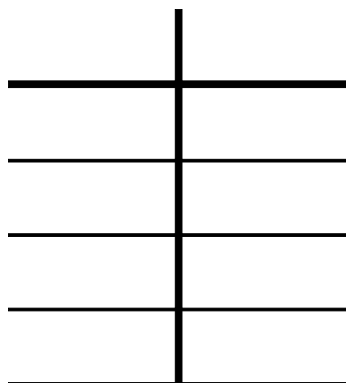
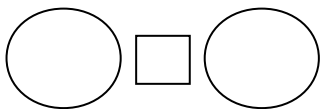
Nombre: _____

Fecha: _____

- Mi amiga Marta tenía un saquito con 37 canicas. Después de haber jugado con ellas, tiene 98. ¿Cuántas canicas ha ganado?

DATOS

OPERACIÓN



PROBLEMAS


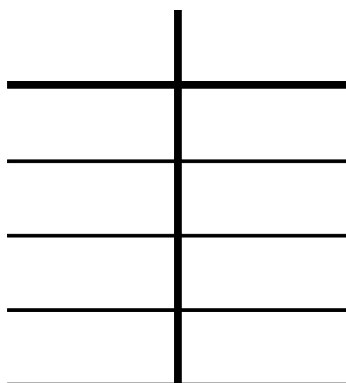
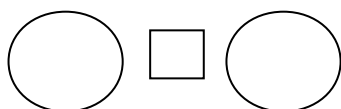


SOLUCIÓN: _____.

- Acaba el curso y en clase hacemos una gráfica junto con nuestra profesora, representando los libros que hemos leído. Mi amiga Marta ha leído 79 libros y yo, 55. ¿Cuántos libros tendría que haber leído para tener los mismos que mi amiga Marta?

DATOS

OPERACIÓN



SOLUCIÓN: _____.



actiludis.com



PROBLEMAS

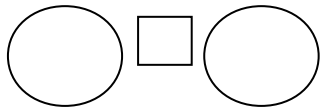


Nombre:

Fecha:

- Hoy es el cumpleaños de nuestro compañero Antonio. Ha traído un paquete con 52 caramelos. Después de dar uno a cada compañero, le quedan en la bolsa 25. ¿Cuántos caramelos repartió?

DATOS



OPERACIÓN

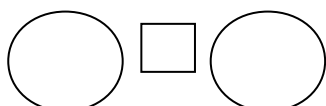


www.colorear-dibujos.com 2011

SOLUCIÓN:_____.

- Tengo 21 alumnos en mi clase de 1°. Mi compañera Amparo tiene 14 en la clase de 5°. ¿Cuántos alumnos tienen que matricularse en 5° para tener ambas el mismo número?

DATOS



OPERACIÓN



SOLUCIÓN:_____.